







Mesurer les longueurs







1 Avec quoi peut-on mesurer ces différents éléments ? Relie chaque élément à son ustensile de mesure.

- | | |
|---------------------------|---------------------|
| un meuble de cuisine • | • une règle graduée |
| une trousse • | |
| un segment • | • un mètre ruban |
| un bébé • | |
| un terrain de football • | • un GPS |
| une maison • | |
| la distance Paris /Lyon • | • un décamètre |

2 Mesure les segment et donne un encadrement au centimètre près.

1.		___ cm < [AB] < ___ cm
2.		___ cm < [CD] < ___ cm
3.		___ cm < [EF] < ___ cm
4.		___ cm < [GH] < ___ cm

3 Mesure les différents segments en centimètres et millimètres.

 Le segment mesure ___ cm ___ mm	 Le segment mesure ___ cm ___ mm
 Le segment mesure ___ cm ___ mm	 Le segment mesure ___ cm ___ mm
 Le segment mesure ___ cm ___ mm	 Le segment mesure ___ cm ___ mm