

Prénom : _____

Date: _____

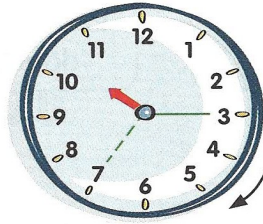
Problème : Heure et Durée

1 La récréation des CE1 commence à 10 h 15 et se termine à 10 h 35. Combien de temps dure la récréation ?

• **Colorie** en **vert** le temps de la récréation sur la montre.

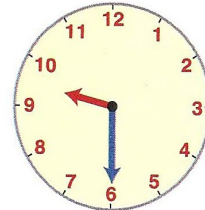
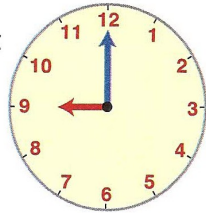
• **Écris** ton calcul : $15 + \square = 35$

• **Réponds** : La récréation dure \square minutes.




2 Tom regarde la pendule au début et à la fin de son dessin animé préféré. Ecris l'heure qu'il voit indiquée sur l'horloge.

heure de début
du dessin
animé



heure de fin
du dessin
animé



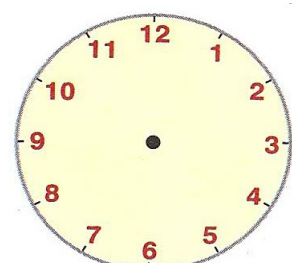

Combien de temps a duré son dessin animé ?

.....
.....

3 Lisa sait que les mathématiques commencent à 10 h 30 et se terminent à 11 h 30. Dessine les aiguilles sur l'horloge.



début à 10 h 30



fin à 11 h 30

Combien de temps ont duré les mathématiques ?

.....
.....