


Bulletin réponses

Date:

TU PARS AVEC UN CAPITAL DE 100 POINTS;

Nombre de points

n°1 logique



Coloriez
la bonne
case.

n°2 géométrie

Le quadrilatère EFGH est :

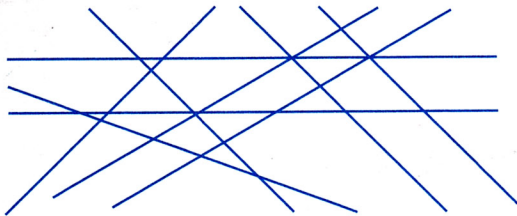
.....

n°3 numération

Le chiffre 1 a été écrit fois.

n°4 géométrie

Repassez d'une même couleur
les droites parallèles entre elles.



n°5 logique

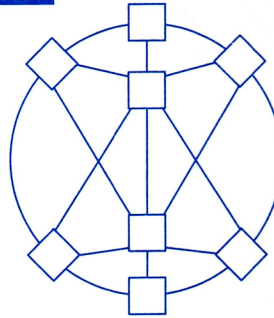
Nombre de menus différents :

n°6 mesure

Entourez la bonne unité.

1 gomme	g	kg	t
1 éléphant	g	kg	t
5 oranges	g	kg	t

n°7 numération



Placez
les nombres
de 1 à 8
aux bons
endroits.

n°8 problème

Écrivez les deux questions
du problème que vous avez trouvées
au verso de cette feuille.

n°9 mesure

- 1) Distance entre le relais et E : ... m.
- 2) Chemin le plus court : maison ...
- 3) Chemin le plus long : maison
- 4) Longueur totale du câble : m.

n°10 problème

Recopiez les données inventées et
les réponses aux questions au verso
de cette feuille.

Vous avez obtenu le score de :

/ 220



Nous jouons
notre **joker** sur
l'énigme

n° :