

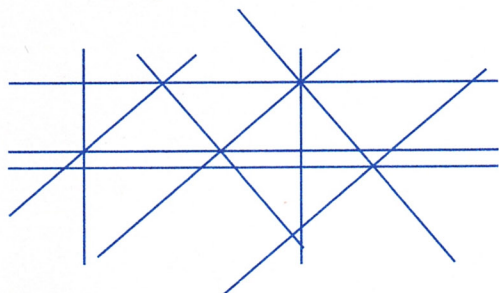
Bulletin réponses

Classe :

Nombre de points

n°1 géométrie

Repassez d'une même couleur les droites parallèles entre elles.



n°2 logique

Anne a cueilli noisettes.
Thomas a cueilli noisettes.

n°3 mesure

Aire totale des parties grises :

n°4 géométrie

Nombre de cubes :

n°5 problème

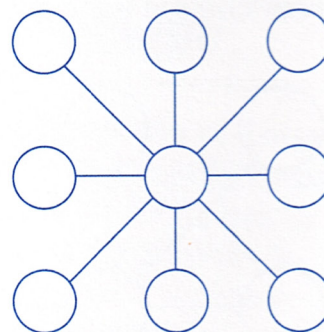
L'âge du père sera le triple de l'âge du fils dans ans.

n°6 numération

A → B →
C →

n°7 numération

Placez les nombres de 1 à 9 aux bons endroits.



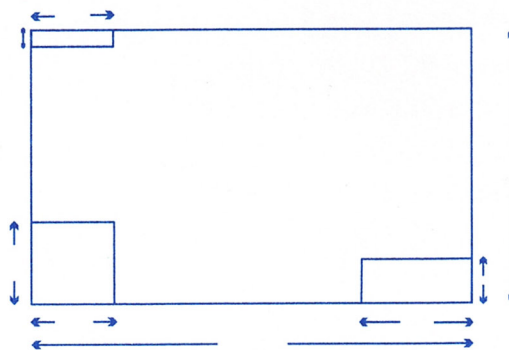
n°8 logique

	2	1	0	2
2				
0				
2				
1				

Noircissez les bonnes cases.

n°9 mesure

Le périmètre mesure : m.



n°10 problème

Le trésor vaut : €.



Nous jouons notre **joker** sur l'énigme n° :

Vous avez obtenu le score de :

/ 220