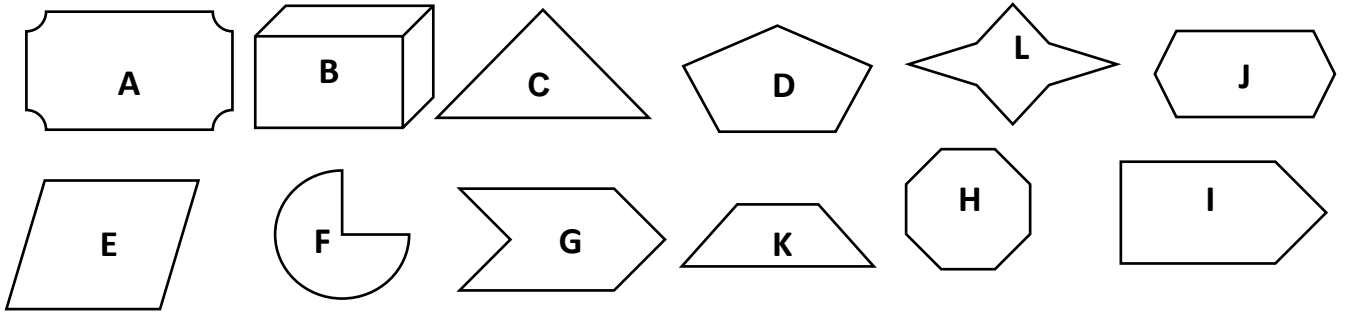


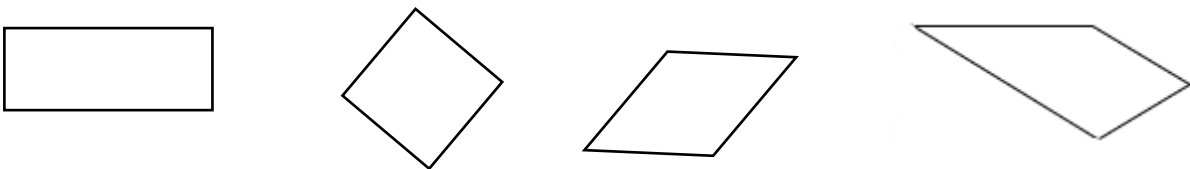
Les polygones et les quadrilatères

① Colorie uniquement les polygones et classes-les dans le tableau en utilisant leur lettre



Triangle	Hexagone	Pentagone	Quadrilatère	Octogone

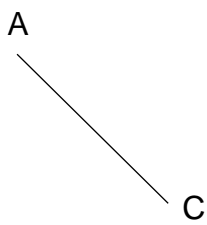

② Ecris le nom de ces figures géométriques



③ Réponds par vrai ou faux

- Le carré est un rectangle qui a ses côtes de même longueur.....
- Les diagonales du losange se coupent en leur milieu et ne sont pas perpendiculaires :
- Le rectangle a des côtés opposés de même longueur :

④ Trace les figures ci-dessous

Trace un carré de 3 cm de côté	Trace un rectangle ABCD tel que $AB=3\text{cm}$ et $BC=2\text{cm}$	Trace un losange de diagonales 3 cm et 5cm
Trace un carré dont une diagonale est le segment [AC] 	Trace un rectangle dont une diagonale est le segment [AC] 	Trace un losange de côté 3 cm