

Prénom : Date :/...../.....

Les panneaux routiers



1



2



3



4



5



6



7



8



9







10

Réponds aux questions

1) Indique le numéro du panneau qui correspond à la définition.

- a. direction obligatoire :
- b. accessibles aux handicapés physiques : ...
- c. voie sans issue : ...
- d. arrêt obligatoire : ...
- e. passage pour piétons : ...
- f. passage d'animaux sauvages : ...
- g. passage d'animaux domestiques : ...
- h. risque de chute de pierres : ...
- i. piste cyclable : ...
- j. chaussée glissante : ...

2) Trouve la définition des panneaux suivants.

			
.....