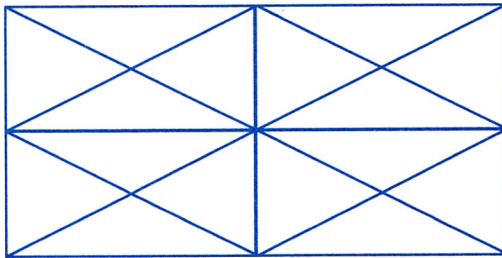


géométrie


N° 5

15 points n°7

Comptez le nombre de triangles contenus dans cette figure.



Encore des lignes ! Vous voulez que je porte des lunettes ?!




logique

15 points n°8

À la bibliothèque, Aline, Bénito, Carla et David ont pris un livre. Chacun l'a choisi d'un genre différent.

- L'un des amis d'Aline a pris un roman policier.
- Carla et David n'ont pas pris de conte.
- Bénito a pris une bande dessinée.
- David n'a pas choisi un livre documentaire cette semaine.



	Aline	Bénito	Carla	David
Policier				
Conte				
BD				
Document				

Grâce au tableau, pouvez-vous trouver quel genre de livre chaque enfant a emprunté ?

numération

20 points n°9

Chaque carré remplace toujours le même chiffre. Effectuez cette addition.

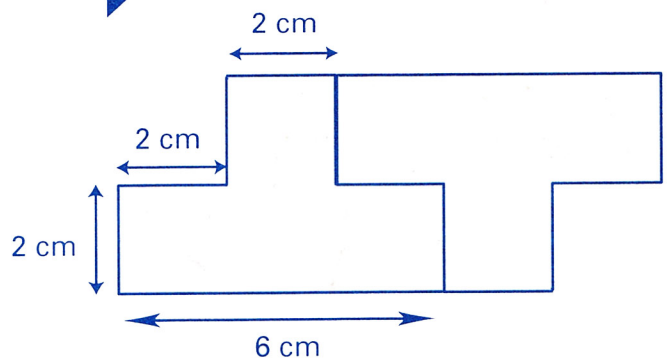
est pair
 est impair

$$\begin{array}{cccc}
 & & \square & \blacksquare & \square \\
 \square & \square & \blacksquare & \square & \square \\
 \square & \square & \square & \square & \square \\
 + & \square & \square & \square & \square \\
 \hline
 \blacksquare & \square & \square & \square & \blacksquare
 \end{array}$$

mesure

20 points n°10

Voici une bande formée de 2 figures :



Trouvez, en centimètres, le périmètre de la bande quand elle sera formée de six figures.