

1./ Complète avec le bon nombre.

The image shows four boxes, each containing a different arrangement of base ten blocks (tens rods and ones units). Each box is connected to an empty square box for the answer.

- Box 1: 8 tens rods and 2 ones units. Answer:
- Box 2: 5 tens rods and 10 ones units. Answer:
- Box 3: 6 tens rods and 10 ones units. Answer:
- Box 4: 5 tens rods and 5 ones units. Answer:

2./ Complète la bande numérique.

96	95									
----	----	--	--	--	--	--	--	--	--	--

3./ Ecris les nombres en t'aidant des étiquettes.

89	
94	
92	

quatre

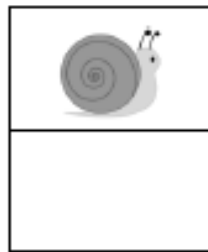

neuf

douze

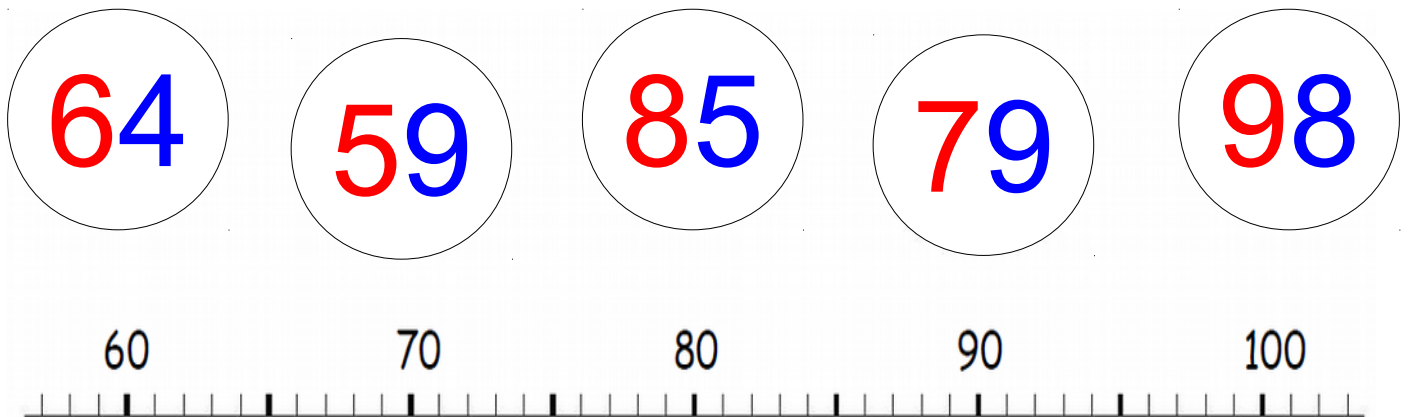
vingt

quatorze

4./ Compte en faisant des paquets de 10.



5./ Relie les nombres à leur place sur la droite graduée.



6./ Classe les nombres dans l'ordre **décroissant**.

93 - 85 - 72 - 41 - 58 - 96
