


3 Trace le symétrique de la figure par rapport à l'axe rouge.



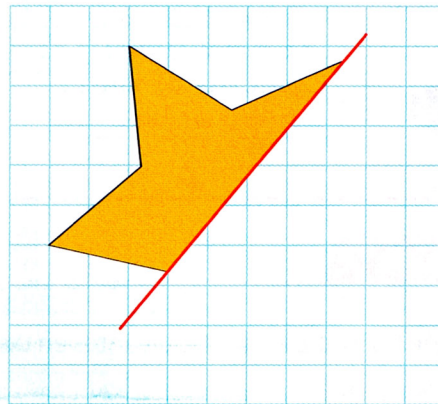
4 Trace à main levée le symétrique de chaque figure par rapport à l'axe rouge. Quels mots obtiens-tu ?

DEDE

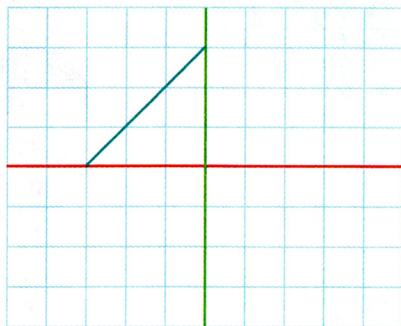
DEE



5 Trace le symétrique de la figure par rapport à l'axe rouge. Tu peux décalquer et plier pour t'aider.



6



a. Trace le symétrique du segment bleu par rapport à l'axe rouge.

b. Trace le symétrique de la figure obtenue par rapport à l'axe vert.

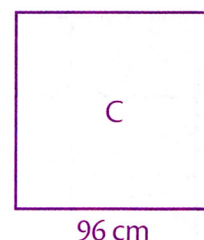
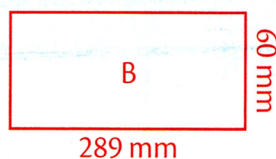
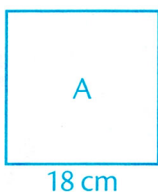
c. Quelle figure obtiens-tu ?

Utilise ton compas et ton équerre pour vérifier.



Je sais déjà

7 Calcule le périmètre des carrés et des rectangles suivants.



.....

.....

.....

.....