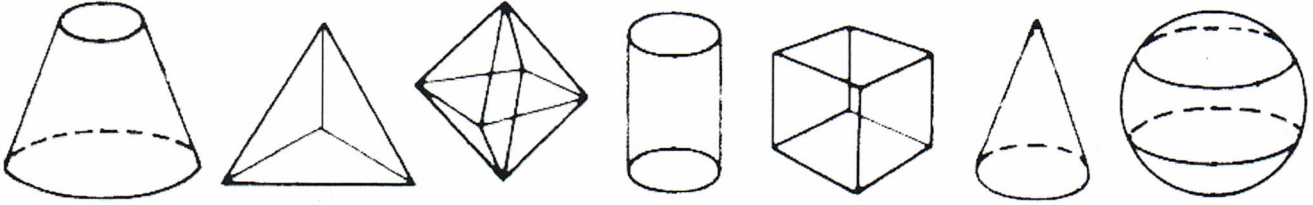


① Quelle est la différence entre un solide et une figure sur papier ?

/1,5

② Parmi toutes ces figures, colorie celles qui sont des polyèdres.

/3,5



③ Qu'est-ce qui te permet de faire la différence entre polyèdres et non polyèdres ?

/1,5

Reconnaître et décrire des solides particuliers usuels A / VA / NA

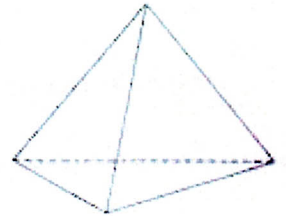
/6

④ Jeanne et Léo jouent au jeu du portrait avec des solides. Aide Jeanne à décrire le plus précisément possible son solide en t'aidant du modèle, et aide Léo à trouver la réponse. /6



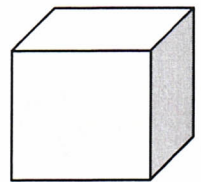
Mon solide est un polyèdre. Il a 4 faces, 4 sommets et 6 arêtes. Toutes ses faces sont des triangles.

⇒ C'est un tétraèdre !



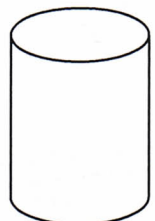
.....  
.....  
.....

⇒ C'est ..... !



.....  
.....  
.....

⇒ C'est ..... !



.....  
.....  
.....

⇒ C'est ..... !

