



Je révise

CE2

R 4

Orthographe

Ecris cette phrase au masculin :

Ma grande tante a deux petites filles.

Vocabulaire

Ecris, au bon endroit, un des homonymes :
vers / vert / verre / ver :

Le petit _____ de terre creuse son trou.

Il se dirige _____ sa terre favorite.

Cet arbre _____ est un épicéa.

Attention, une petite plaque de _____ !

Grammaire

Transforme en questions en utilisant « Est-ce que » :

Les écureuils grimpent vite.

Est-ce que _____

Tu lis cet énorme livre.

Est-ce _____

Ces poules ont des plumes rousses.

Est _____





Opérations

Calcule les opérations suivantes :

1) $1456 + 828$

2) $5384 - 26$



Numération

Retrouve le nombre :

Ce nombre contient quatre chiffres.

a) Le chiffre des unités est dans la table de 5 et ce n'est pas 0.

b) Le chiffre des centaines est le double de 2.

c) Le chiffre des dizaines est le double des centaines.

d) Le chiffre des mille est la moitié des centaines.

Mesure

Trace le segment [AB] de 6,4 cm.

[A _____

puis le segment [CD] de 52mm.

D] _____

Je lis

Nous sommes le 4 juin et pour repeindre ses murs, Philippe décide d'aller acheter 5 pots de peinture. Il faut 3 pots de peinture blanche et 2 pots de peinture rouge. Les 5 pots de peinture coûtent 56 €. Un pot de peinture blanche coûte 12€.

Il a également acheté un lot de 3 pinceaux à 9 € le lot.

Tarif

1 pot de blanc : €

1 pot de rouge : ____€

1 pinceau : ____€



1. A quelle date, Philippe va-t-il faire ses courses ?
C'est le _____.
2. Combien a-t-il payé la peinture et les pinceaux ?
Il a payé ____€.
3. Combien coûtent les 3 pots de peinture blanche ?
Ils coûtent ____€.
4. Combien coûtent les 2 pots de peinture rouge ?
Ils coûtent ____€.
5. Combien coûte un pinceau ?
Un pinceau coûte ____€.

Dans ce texte :

1. Relève un déterminant : _____
2. Relève un pronom : _____
3. Relève le premier verbe : _____
4. Compte le nombre de phrases : _____

Où Philippe va-t-il ? (Réponds en rédigeant une phrase complète.) _____

Je recherche



Retrouve à quoi correspondent les nombres suivants.

1. « 4 » représente _____.
2. « 9 » représente _____.
3. « 12 » représente _____.
4. « 56 » représente _____.
5. « 5 » représente _____.





Je révisé

CE2

R 5

Orthographe

Ecris cette phrase au féminin pluriel :
Ce boulanger est très bavard.

Conjugaison

Ecris correctement les verbes au Présent.

Ils _____ à la piscine. (aller)

Vous _____ mangé très tôt. (avoir)

Je _____ au cinéma. (être)

Les lapins _____ manger. (venir)

Elle _____ une poésie. (dire)

Grammaire

Réduis les phrases suivantes (enlève les compléments de phrase):

Les canards nagent tranquillement dans l'étang.

Tous les soirs, les pâquerettes se referment lentement.

Dans le ciel, les hirondelles s'envolent vers le Sud.

Opérations

Calcule les opérations suivantes :

a) $99 + 584$

b) $620 - 142$

Numération

Retrouve le nombre :

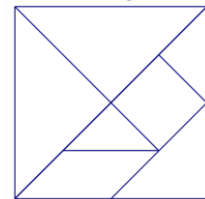
m c d u



Colorie les unités en BLEU,
les dizaines en ROUGE,
les centaines en VERT
et les milliers en JAUNE.

Géométrie

Colorie les triangles en rouge.



Comment se nomment les 2 figures qui restent ?

_____ et _____

Je lis

Masses

- ___ kg carottes
- ___ kg pommes de terre
- ___ kg pommes
- ___ kg oranges


En faisant mes courses, vers 10H00, j'ai acheté 3kg de carottes, 2kg de pommes, 5 kg de pommes de terre et 1kg d'oranges. En rentrant, vers 11H15, j'ai cuit mes légumes et fait une compote avec mes pommes.

1. Quel est le poids des **légumes** que j'ai achetés ?
J'ai acheté ___ kg de légumes.

2. Quel est le poids des **fruits** que j'ai achetés ?
J'ai acheté ___ kg de fruits.

3. Quel est le poids de ce que j'ai acheté au marché ?
J'ai acheté ___ kg de fruits et légumes.

4. Combien de temps ont duré mes courses ?
Les courses ont duré _____.



Dans ce texte :

1. Relève un nom commun singulier : _____
2. Relève un déterminant : _____
3. Relève un mot invariable : _____
4. Compte le nombre de phrases : _____

Je recherche



A quel moment de la journée ai-je fait mes courses ? (Réponds en rédigeant une phrase complète.)

Retrouve à quoi correspondent les nombres suivants.

1. « 10 » représente _____.
2. « 15 » représente _____.
3. « 2 » représente _____.
4. « 3 » représente _____.
5. « 5 » représente _____.

