



Ma classe à la maison – Regarde cette vidéo

Mesurer et comparer les masses

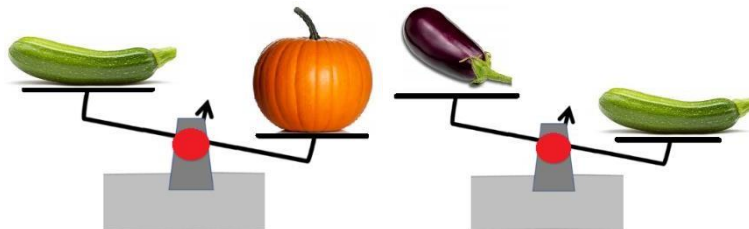


J'ai compris ! J'applique

Partie 1  0-2:17- Observe les balances et complète la phrase.

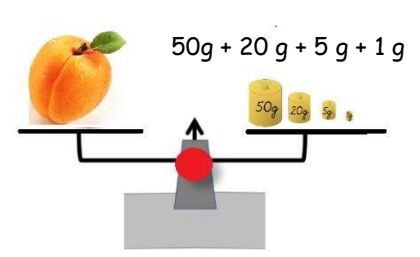
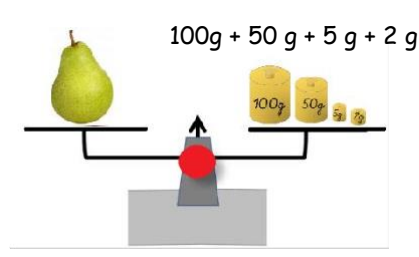
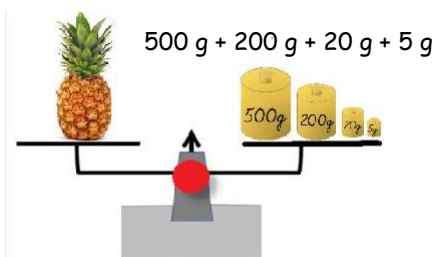
Le citron est plus <b>léger</b> que le melon.	Les prunes sont plus <b>lourdes</b> que le raisin.	La fraise est plus <b>lourde</b> que la framboise.	La poire est plus <b>légère</b> que la pomme.

Partie 2  2 :16 – 4 :12- Observe ces deux balances puis range ces fruits du plus léger au plus lourd.



l'aubergine < la courgette < la citrouille

Partie 3  4 :14 - 6 :46- Quel est le poids des objets suivants ? Ecris la phrase réponse




L'ananas pèse 725 grammes

La poire pèse 157 grammes

L'abricot pèse 76 grammes

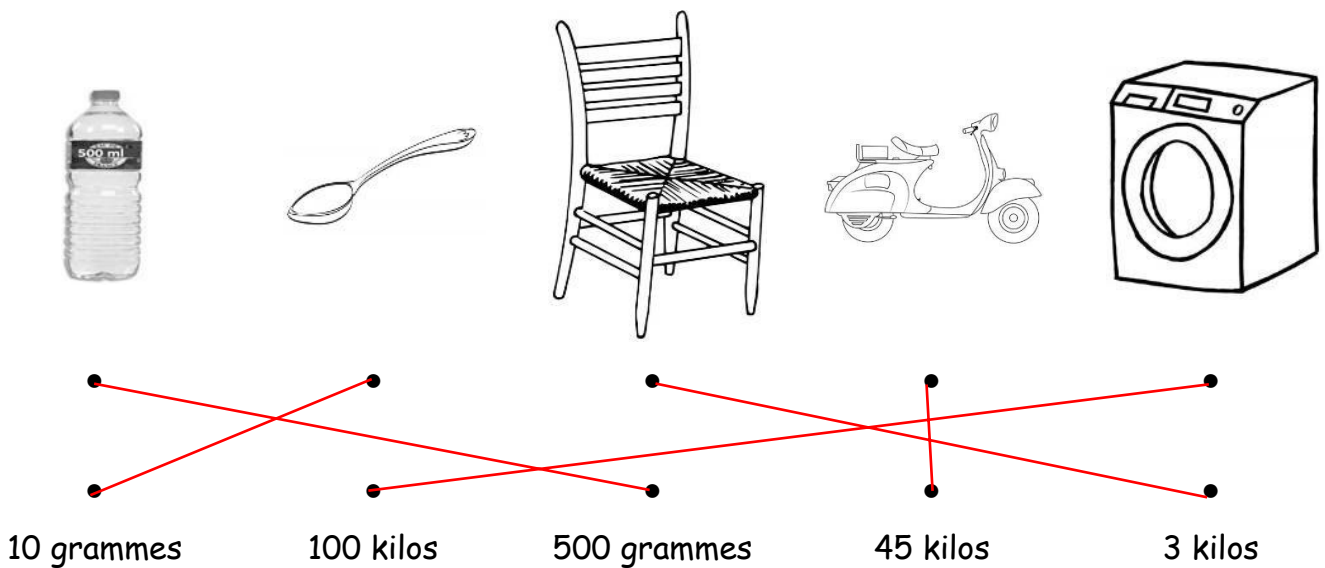
## Je m'entraîne

- ① Question de logique...on ne connaît pas leur poids mais on peut les classer du plus léger au plus lourd.



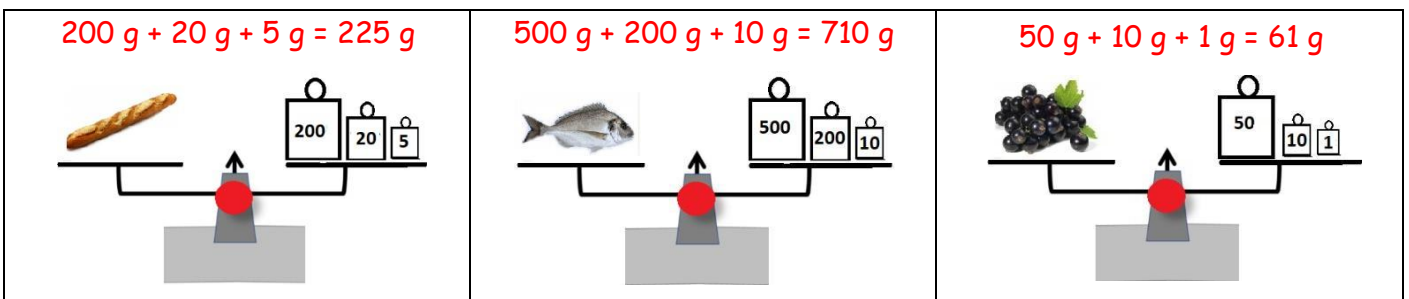
un papillon < un oiseau < un chien < une vache < un éléphant

- ② Relie chacun de ces objets à son poids.



- ③ Dessine trois masses avec leur poids pour équilibrer les plateaux de la balance.

Voici les masses que tu peux utiliser :



- ④ Résous le problème suivant : fais un calcul et une phrase de conclusion.

Manuela achète 2 grappes de raisin, la première pèse 207 grammes et la deuxième 365 grammes. Quel poids de raisin-a-t-elle acheté ?  $207 + 365 = 572$

Manuela a acheté 572 grammes de raisin.